



แบบฝึกทักษะการวัด
กลุ่มสาระการเรียนรู้คณิตศาสตร์
ชั้นประถมศึกษาปีที่ 4

เล่มที่ 5 เรื่อง ความสัมพันธ์ระหว่างหน่วยการชั่ง



อังคณา คุ่มมี

วิทยฐานะชำนาญการ

โรงเรียนจำการบุญ

สำนักงานเขตพื้นที่การศึกษาประถมศึกษาพิษณุโลก เขต 1

สำนักงานคณะกรรมการการศึกษาขั้นพื้นฐาน กระทรวงศึกษาธิการ



แบบฝึกทักษะที่ 1

ความสัมพันธ์ระหว่างหน่วยการชั่ง

คำชี้แจง

จงเติมตัวเลขแสดงความสัมพันธ์ระหว่างหน่วยการชั่งให้ถูกต้อง
(ช่องละ 1 คะแนน)

กรัม	100		300		500		700		900
ขีด		2		4		6		8	

ขีด	กิโลกรัม
10	
	2
30	
	4
50	
60	
	7
80	
	9

กรัม	กิโลกรัม
1,000	
	2
	3
4,000	
	5
6,000	
	7
	8
9,000	

กิโลกรัม	เมตริกตัน
1,000	
	2
3,000	
	4
5,000	
	6
	7
8,000	
	9

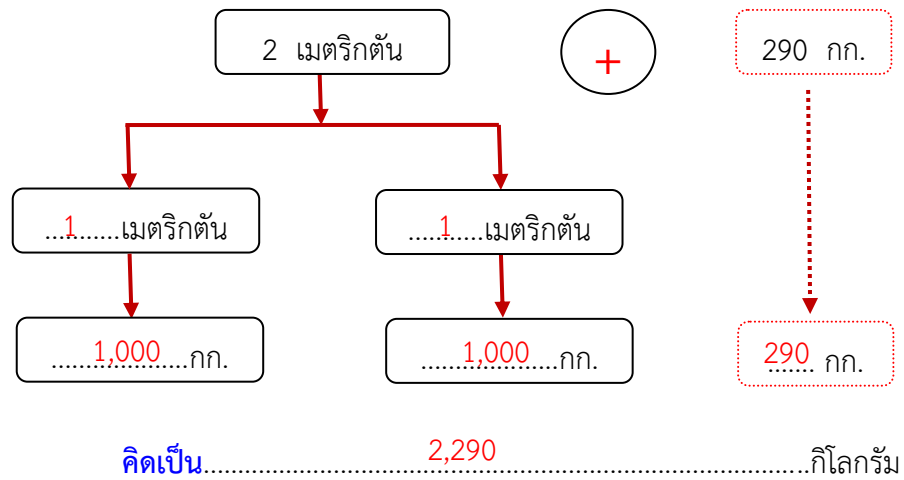


แบบฝึกทักษะที่ 2

ความสัมพันธ์ระหว่างหน่วยการชั่ง

คำชี้แจง จงเติมคำตอบในช่องว่างให้ถูกต้อง (ช่องละ 1 คะแนน)

ตัวอย่างที่ 1 2 เมตริกตัน 290 กิโลกรัม คิดเป็นกิโลกรัม

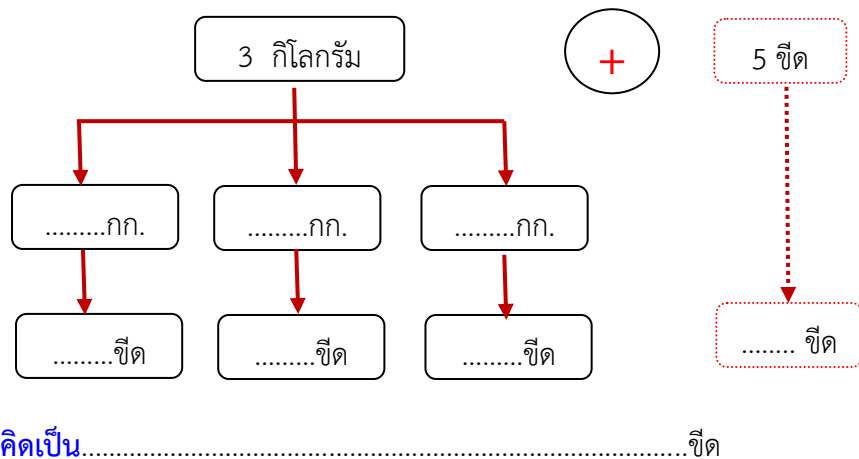


ตัวอย่างที่ 2

7 ชีด 68 กรัม คิดเป็นกิโลกรัม

คิดจาก $(7 \times 10 \dots\dots) + \dots\dots 68 \dots\dots = \dots\dots 768 \dots\dots$ กรัม

1. 3 กิโลกรัม 5 ชีด คิดเป็นกิโลกรัม



2. 75 ซีต คิดเป็นกิโลกรัม

คิดจาก $\times 100 =$ กรัม

3. 4 กิโลกรัม 890 กรัม คิดเป็นกิโลกรัม

คิดจาก (4 \times ) + = กรัม

4. 8 เมตริกตัน คิดเป็นกิโลกรัม

คิดจาก $\times 100 =$ กิโลกรัม

5. 5 เมตริกตัน 975 กิโลกรัม คิดเป็นกิโลกรัม

คิดจาก (..... \times ) + = เมตร



ยังจำได้ใช่ไหม ?

100 กรัม	เท่ากับ	1 ซีต
10 ซีต	เท่ากับ	1 กิโลกรัม
1,000 กรัม	เท่ากับ	1 กิโลกรัม
1,000 กิโลกรัม	เท่ากับ	1 เมตริกตัน (ตัน)



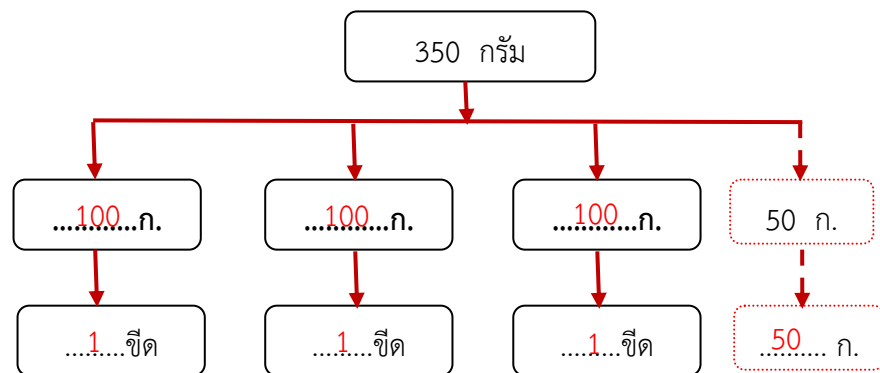
แบบฝึกทักษะที่ 3

ความสัมพันธ์ระหว่างหน่วยการชั่ง

คำชี้แจง

จงเติมคำตอบในช่องว่างให้ถูกต้อง (ช่องละ 1 คะแนน)

ตัวอย่างที่ 1 350 กรัม คิดเป็นกี่ขีด กี่กรัม



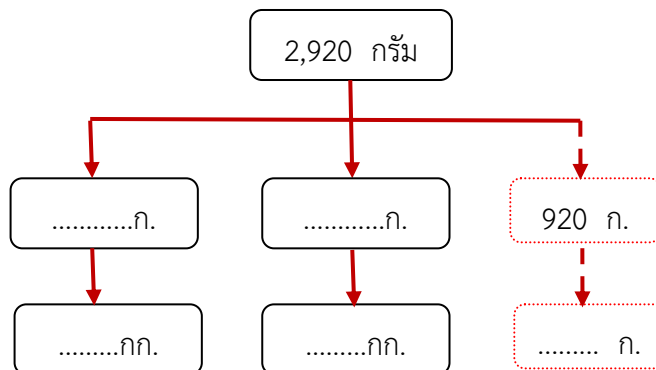
คิดเป็น.....³.....ขีด.....⁵⁰.....กรัม

ตัวอย่างที่ 2

7,500 กิโลกรัม คิดเป็นกี่เมตริกตัน กี่โลกรัม

คิดจาก (7,500 ÷^{1,00}.....) =⁷.....เมตริกตัน.....⁵⁰⁰.....กิโลกรัม

1. 2,920 กรัม คิดเป็นกี่กิโลกรัม กี่กรัม



คิดเป็น.....กิโลกรัม.....กรัม

2. 9,000 กรัม คิดเป็นกี่กิโลกรัม
คิดจาก \div 1,000 =กิโลกรัม
3. 540 กรัม คิดเป็นกี่ขีด กี่กรัม
คิดจาก (540 \div ) =ขีด.....กรัม
4. 4,795 กิโลกรัม คิดเป็นกี่เมตริกตัน กี่โลกรัม
คิดจาก (4,795 \div ) =เมตริกตัน.....กิโลกรัม
5. 17 ขีด คิดเป็นกี่กิโลกรัม กี่ขีด
คิดจาก (..... \div ) =กิโลกรัม.....ขีด

ยังจำได้นะครับ

100 กรัม	เท่ากับ	1 ขีด
10 ขีด	เท่ากับ	1 กิโลกรัม
1,000 กรัม	เท่ากับ	1 กิโลกรัม
1,000 กิโลกรัม	เท่ากับ	1 เมตริกตัน (ตัน)



แบบฝึกทักษะที่ 4

ความสัมพันธ์ระหว่างหน่วยการชั่ง



คำชี้แจง

จงเติมเครื่องหมาย $>$ $<$ หรือ $=$ ลงใน ให้ถูกต้อง
(ข้อละ 1 คะแนน)

- | | | |
|------------------------|----------------------|-------------------|
| 1. 8,700 กรัม | <input type="text"/> | 8 กิโลกรัม 7 กรัม |
| 1. 4 กิโลกรัม 600 กรัม | <input type="text"/> | 4,600 กรัม |
| 2. 6,500 กิโลกรัม | <input type="text"/> | 65 ตัน |
| 3. 105 ชีด | <input type="text"/> | 15 กิโลกรัม |
| 4. 79 ชีด | <input type="text"/> | 7 กิโลกรัม 9 ชีด |

ไม่ลืมใช้ไหมคะ ?

- | | | |
|----------------|---------|-------------------|
| 100 กรัม | เท่ากับ | 1 ชีด |
| 10 ชีด | เท่ากับ | 1 กิโลกรัม |
| 1,000 กรัม | เท่ากับ | 1 กิโลกรัม |
| 1,000 กิโลกรัม | เท่ากับ | 1 เมตริกตัน (ตัน) |



เปลี่ยนหน่วยใหญ่ \rightarrow เล็ก ใช้วิธีการ \times
เปลี่ยนหน่วยเล็ก \rightarrow ใหญ่ ใช้วิธีการ \div